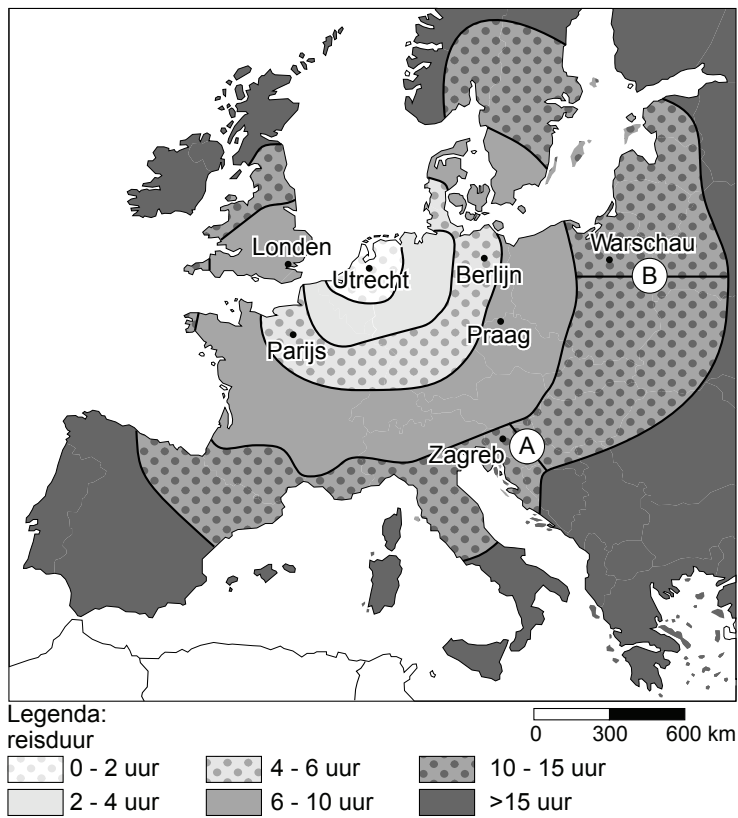


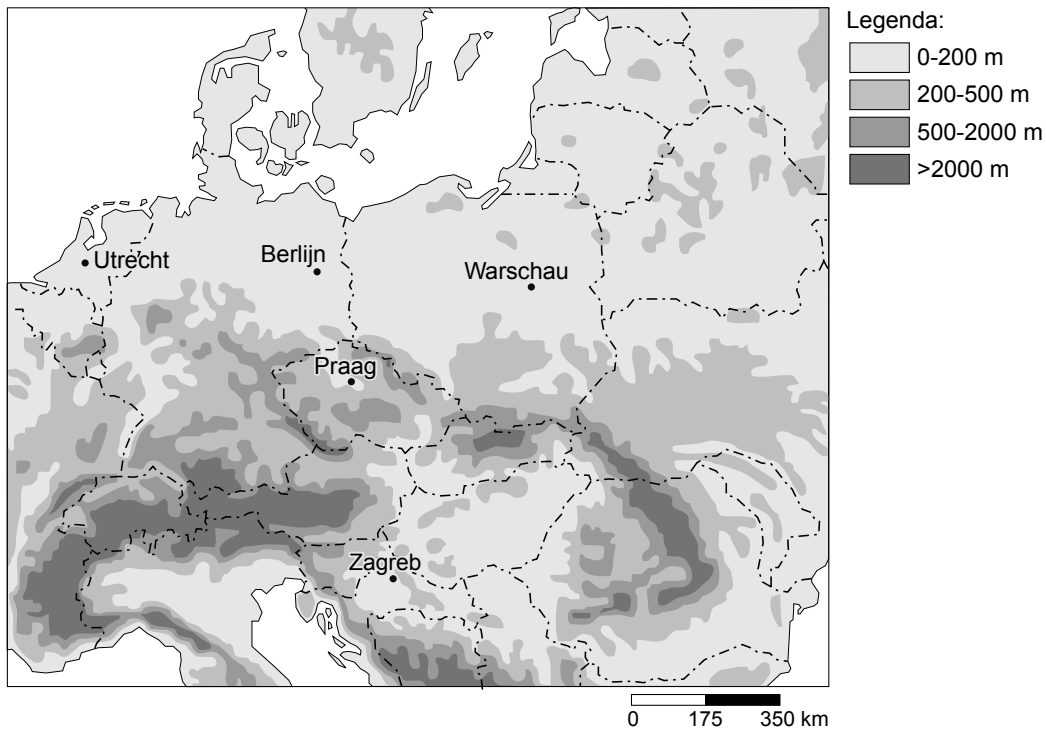
De Nederlanders en hun vakantiebestemmingen

bron 1

Reisduur en afstand, gerekend vanaf Utrecht met de eigen auto



bron 2
Reliëfkaart

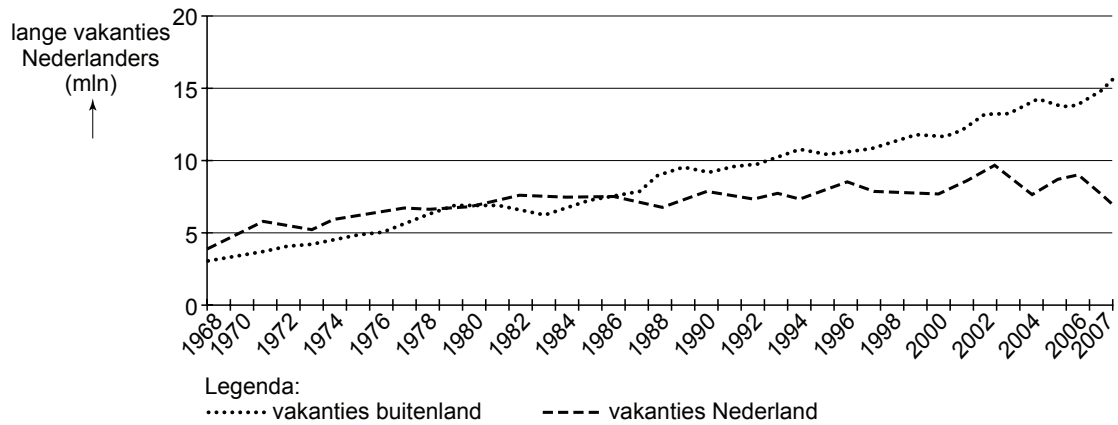


In bron 1 is Europa ingedeeld in verschillende gordels. Elke gordel geeft aan hoeveel reistijd een Nederlandse vakantieganger nodig heeft om zijn bestemming te bereiken. Dit is berekend vanuit Utrecht met de eigen auto. Een stedentripje naar Praag bijvoorbeeld kost de vakantieganger ongeveer 6 tot 10 uur reistijd. Met de touringcar zou diezelfde vakantieganger er echter 12 uur over doen om in Praag te komen.

- 2p 1 Geef twee redenen voor dit verschil in tijdsduur tussen reizen met de eigen auto en met een touringcar.
- 1p 2 Welke vakantiebestemming in Europa is met de auto **niet** binnen 15 uur te bereiken (zie bron 1)?
- A Denemarken
 - B Midden-Frankrijk
 - C West-Duitsland
 - D Zuid-Spanje
- 1p 3 Londen ligt hemelsbreed iets dichterbij Utrecht dan Parijs. Toch is de reisduur met de eigen auto naar Londen langer dan die naar Parijs.
- Geef hiervoor een verklaring.
- 1p 4 De gordel die 10 tot 15 uur reistijd aangeeft (zie bron 1), is niet overall even breed. Op de kaart zijn twee trajecten getekend. Een traject langs Zagreb (A) en een traject langs Warschau (B). Op het ene traject kan men beter doorrijden dan op het andere traject.
- Op welk traject kan men beter doorrijden? Geef daarvoor de oorzaak, en maak hierbij gebruik van bron 2.

bron 3

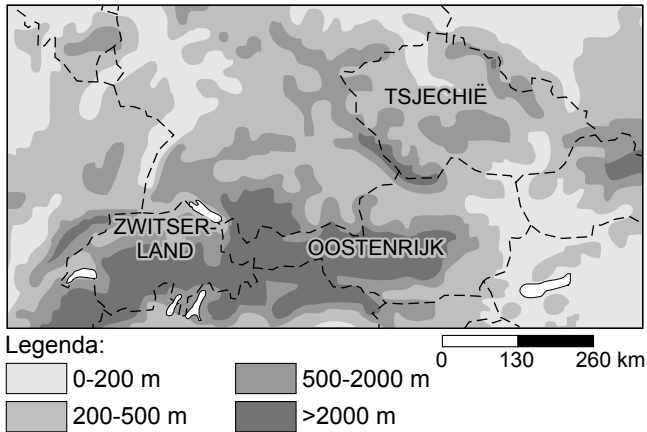
Aantal lange vakanties van Nederlanders, 1968-2007



- 1p **5** In bron 3 zie je een toename van het aantal lange vakanties van de Nederlanders sinds 1968. Eén van de redenen is natuurlijk dat het aantal Nederlanders sinds 1968 ook is toegenomen.
→ Noem nog een reden voor de toename van het aantal lange vakanties van Nederlanders.
- 2p **6** Hieronder staan twee uitspraken naar aanleiding van bron 3.
- 1 Het aantal lange vakanties naar het buitenland is altijd hoger geweest dan het aantal lange vakanties in het binnenland.
 - 2 Tussen 1968 en 2007 is het aantal lange vakanties toegenomen.
- Neem de nummers 1 en 2 van deze uitspraken over op het antwoordblad en zet erachter of deze uitspraak juist is of onjuist.

bron 4

Midden-Europa



- 1p 7 Steeds meer mensen gaan voor hun wintersportvakantie naar Tsjechië in plaats van naar Oostenrijk en Zwitserland.
→ Geef daarvoor een reden.
- 1p 8 De natuurlijke sneeuwzekerheid is in de Alpenlanden beter dan in Tsjechië. Wat is de belangrijkste reden dat de sneeuwzekerheid in Tsjechië veel kleiner is dan die in het Alpengebied?
- A De skigebieden liggen in de Alpen allemaal op de sneeuwzekere zuidhelling.
 - B De skigebieden liggen in de Alpen altijd boven de boomgrens.
 - C De skigebieden zijn in de Alpen over het algemeen hoger gelegen.
 - D In de skigebieden in de Alpen wordt geen gebruik gemaakt van sneeuwkanonnen.

bron 5

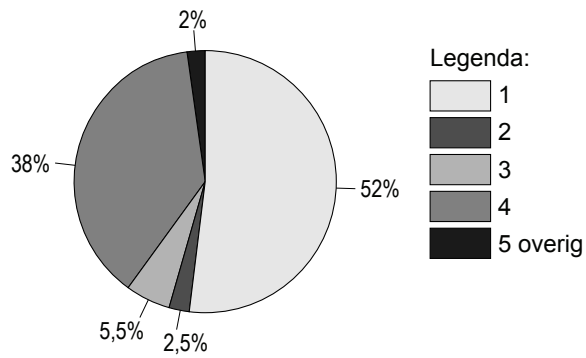
Sneeuwkanonnen



- 2p **9** In de wintersportgebieden wordt steeds meer gebruikgemaakt van sneeuwkanonnen. Met het gebruik ervan is niet iedereen gelukkig. Hieronder staan drie uitspraken over sneeuwkanonnen:
- 1 Met sneeuwkanonnen wordt het wintersportseizoen verlengd.
 - 2 Sneeuwkanonnen zijn milieuvriendelijk.
 - 3 Sneeuwkanonnen kunnen alleen gebruikt worden boven de boomgrens.
- Neem de cijfers 1, 2 en 3 over op het antwoordblad en zet erachter of deze uitspraken juist zijn of onjuist.
- 2p **10** In zekere zin zijn de landen rond de Middellandse Zee elkaars concurrenten als het gaat om het aantrekken van toeristen. Ze hebben voor een belangrijk deel dezelfde toeristische pullfactoren.
- Noem twee van deze toeristische pullfactoren.
- 1p **11** Er zijn vakantiegangers uit Nederland die vrijwel elke zomer naar Marokko of Turkije reizen. Zij verblijven doorgaans niet in toeristencentra, maar in kleinere plaatsen in het binnenland. Daar brengen zij vaak de hele schoolvakantie door. De toeristische attracties van het land zijn voor hen slechts bijzaak. In die zin vormen deze vakantiegangers een bijzonder groep.
- Welk groep vakantiegangers wordt hier bedoeld?

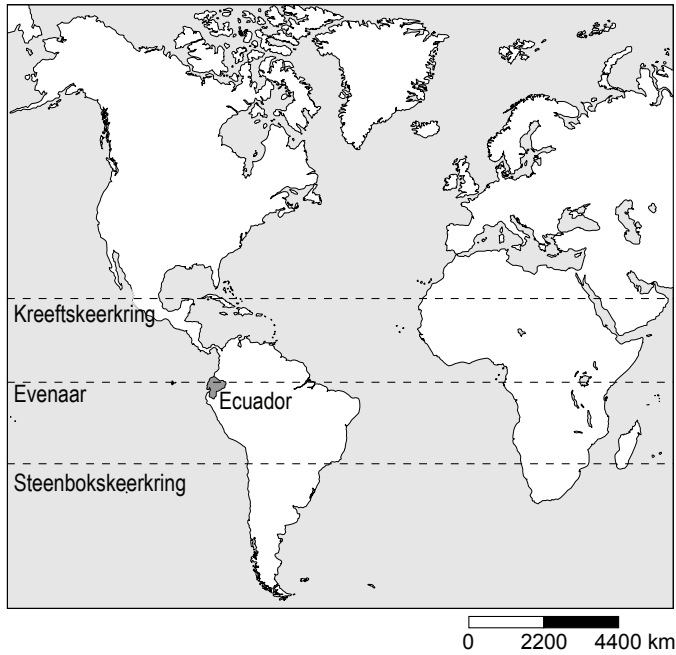
bron 6

Lange vakanties naar het buitenland naar vervoerstype, 2007

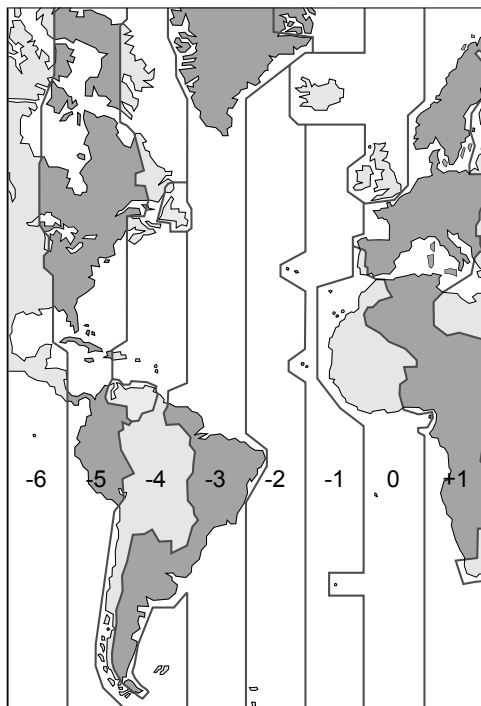


- 2p **12** Het diagram van bron 6 toont de meest gebruikte vervoersmiddelen voor lange vakanties van Nederlanders in 2007. De namen van de vervoersmiddelen zijn vervangen door de cijfers 1 t/m 4. In willekeurige volgorde zijn dit: vliegtuig, touringcar, trein en auto.
- Neem de cijfers 1 en 4 over op het antwoordblad en zet erachter welk vervoermiddel hiermee bedoeld wordt.
- 2p **13** Bij Europese bestemmingen kunnen vliegtuig en hogesnelheidstrein met elkaar concurreren tot een afstand van zo'n vijfhonderd kilometer.
- Welke twee voordelen heeft een treinreis met de hogesnelheidstrein bij deze afstand boven een vliegreis?

bron 7
Deel van de wereld



bron 8
Tijdzones

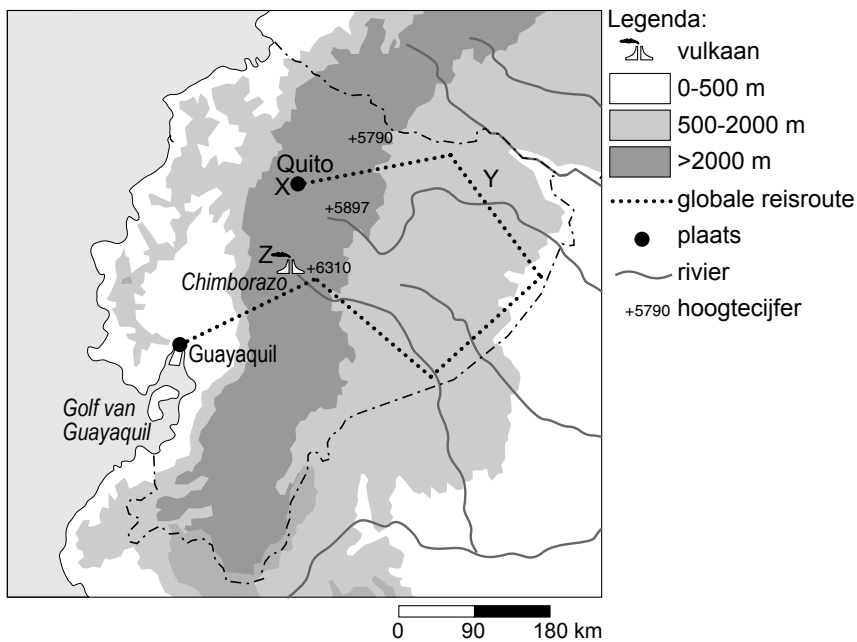


Mike en Annouk besluiten om rond de Kerst een rondreis te maken door Ecuador, één van de kleinere landen in Zuid-Amerika (zie bron 7). Ze boeken een rechtstreekse vlucht met de KLM van Schiphol naar Quito (zie bron 9) de hoofdstad van Ecuador. Ze vertrekken op zondag 20 december om tien uur 's morgens. De vlucht duurt ongeveer 11 uur.

- 1p 14 Hoe laat is het in Quito als ze daar aankomen met het vliegtuig? Gebruik hierbij bron 8.
- A zondag 20 december om 9 uur 's avonds
 - B zondag 20 december om 10 uur 's avonds
 - C zondag 20 december om 3 uur 's middags
 - D maandag 21 december om 3 uur 's nachts
- 2p 15 Eenmaal aangekomen in Quito, besluiten ze het eerst maar even rustig aan te doen. Daar dwingt het klimaat hen ook wel toe! Het klimaat is er namelijk helemaal anders dan in Nederland.
- Welke twee factoren bepalen dat het klimaat in Quito helemaal anders is dan in Nederland (zie de bronnen 7 en 9)?

bron 9

Rondreis door Ecuador in Zuid-Amerika



Na een paar dagen zijn ze helemaal gewend aan de omstandigheden. Ze gaan beginnen aan hun rondreis met lokaal vervoer. Thuis hadden ze die grotendeels al uitgestippeld (zie bron 9). Ook hebben ze van te voren al kamers laten boeken bij lokale pensions.

- 1p 16 Wat is de lengte van de rondreis van Mike en Annouk door Ecuador?
- A 300 km
 - B 600 km
 - C 900 km
 - D 1200 km

In het binnenland van Ecuador brengen ze onder andere een bezoek aan een primitief dorp waar de 'Indiginos' wonen. Dit is de inheemse bevolking die afstamt van de oorspronkelijke bevolking, de Indianen.

bron 10

Bezoek aan een bananenplantage



Aan het eind van hun vakantie brengen zij een bezoek aan een "Fair Trade"-bedrijf waar door de lokale bevolking bananen worden gekweekt. Zij maken ook een dagexcursie naar zo'n bananenplantage. Het bedrijf biedt de mogelijkheid om zo'n bezichtiging met een busje te maken.

- 1p 17 Noem een voorbeeld waarop Mike en Annouk als toeristen kunnen zorgen voor extra inkomsten van zo'n "Fair Trade"-bedrijf.

bron 11

Drie foto's van de rondreis

foto 1



foto 2



foto 3



- 2p **18** Tijdens hun rondreis hebben ze heel veel foto's gemaakt. Drie daarvan zijn afgebeeld in bron 11. Op de kaart van bron 9 staan drie plaatsen aangegeven met de letters X, Y en Z.
→ Neem de letters X, Y en Z over op het antwoordblad en zet erachter welke foto op deze plaats is gemaakt.
- 2p **19** Mike en Annouk verschillen van mening over de vraag of hun vakantie een voorbeeld is van duurzaam toerisme. Mike vindt van wel en Annouk vindt van niet.
→ Noteer de namen Mike en Annouk op het antwoordblad en zet er achter een argument dat Mike gebruikt zal hebben en een argument dat Annouk gebruikt zal hebben.

Bronvermelding

Een opsomming van de in dit examen gebruikte bronnen, zoals teksten en afbeeldingen, is te vinden in het bij dit examen behorende correctievoorschrift, dat na afloop van het examen wordt gepubliceerd.